

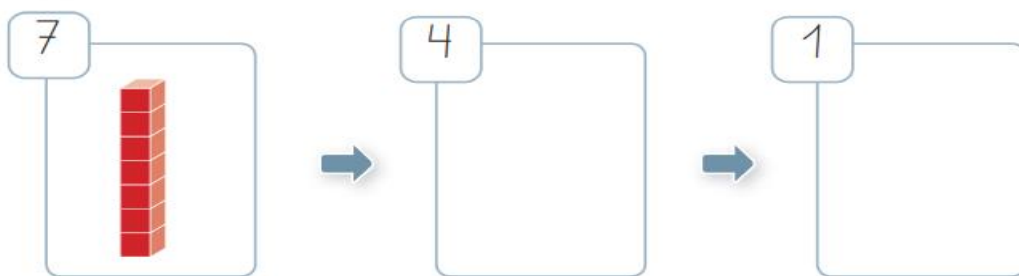
## Patrones y secuencias numéricas

Nombre: \_\_\_\_\_ Curso: \_\_\_\_\_ Fecha: 13 / 11 / 2020

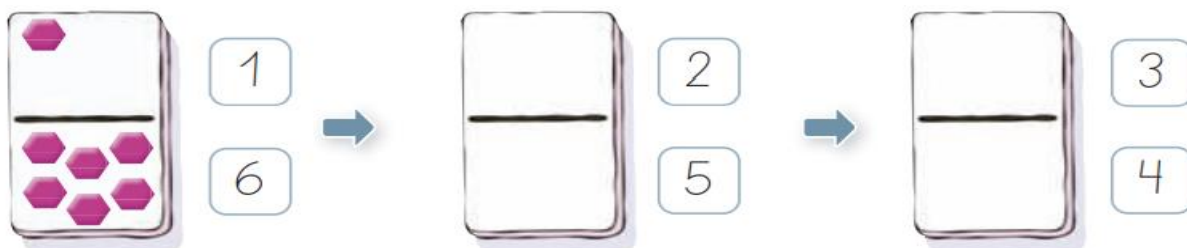
OA 12 Crear, representar y continuar una variedad de patrones numéricos y completar los elementos faltantes.

1. Dibuja las siguientes secuencias numéricas.

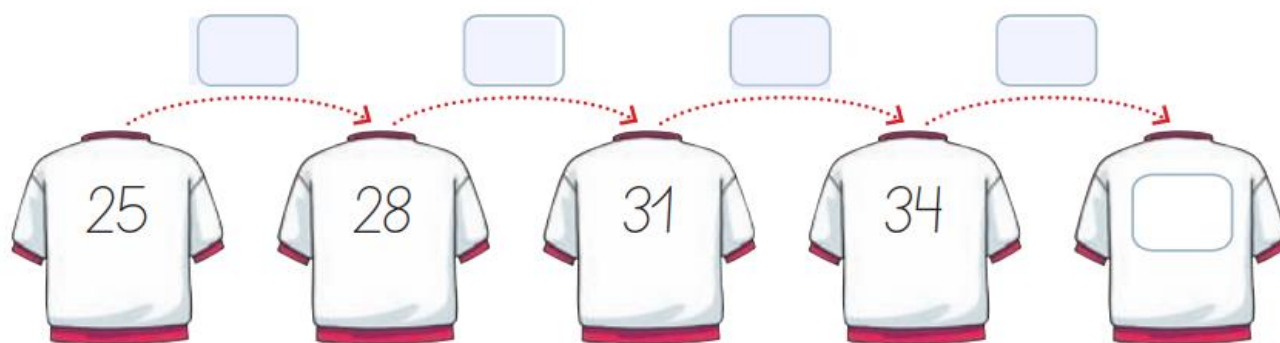
Patrón ► Quitar 3 cubos cada vez.



Patrón ► Agregar una arriba y quitar una abajo.



2. Completa el número de la camiseta identificando el patrón.



El patrón es ► \_\_\_\_\_.

3. Continúa las secuencias numéricas a partir del patrón dado.

a. Patrón ► sumar 7



b. Patrón ► restar 3



4. Continúa las secuencias numéricas siguiendo el patrón.

a.

85 80 75

b.

34 41 48

c.

14 18 22

5. Completa las secuencias numéricas siguiendo el patrón.

a.

26 32   50

b.

21 18     3

6. Marca el patrón que sigue cada secuencia numérica y complétala.

a. El patrón es:  Sumar 6  Sumar 8

18 → 24 →  → 36 → 42 →  → 54

b. El patrón es:  Restar 10  Sumar 10

1 → 11 → 21 →  →  → 51 → 61

7. ¿Qué números completan la secuencia?

Patrón ► sumar 7

10 → 17 →  →  → 38 →  → 52 → 59