
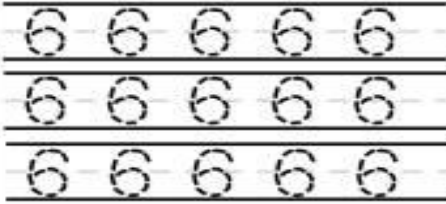

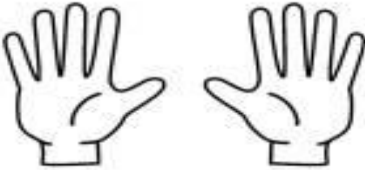


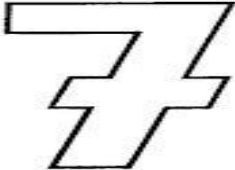


FICHA DE TRABAJO DE MATEMATICAS



Nombre: _____

Fecha: 27/10/2020

<p>Traza</p>  <p>Seis</p>	<p>Remarca</p> 
<p>Cuenta</p> 	<p>Colorea 6</p> 

COLOREA , GRAFICA EL NUMERO 7 Y CUENTA LOS OBJETOS ESCRIBIENDO EL NUMERO SEGÚN CORRESPONDA LA CANTIDA


	
<input type="text" value="7"/>	<input type="text"/>

FICHA DE TRABAJO DE MATEMATICAS

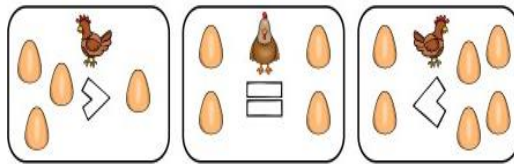
Nombre:

Fecha: 03/11/2020









MAYOR QUE,
 MENOR QUE,
 IGUAL



EJEMPLO:



AYUDA A ESTE AMIGO COCODRILO A RECORTAR Y PEGAR LOS SIGNOS DONDE CORRESPONDA Y RECUERDA QUE LA BOQUITA DEL COCODRILO COME SIEMPRE DONDE HAY MAYOR CANTIDAD DE OBJETO O DONDE ESTA EL NUMERO MAYOR. Y CUANDO SON LA MISMA CANTIDAD DE OBJETOS O IGUAL NUMERO LO COMPARAMOS CON EL SIGNO ES IGUAL.

	<input type="text"/>	
	<input type="text"/>	
	<input type="text"/>	
	<input type="text"/>	

<

>

<

=




FICHA DE TRABAJO DE MATEMATICAS

Nombre:

Fecha: 10/11/2020

1. Con lápiz grafito juega a repasar los signos de comparación de números.



2. Compara los siguientes números usando los signos > (mayor que), < (menor que) e = (igual que).

EJEMPLOS:

$4 < 5$

$6 > 3$

$2 = 2$

$2 \square 5$

$6 \square 0$

$3 \square 3$

$1 \square 2$