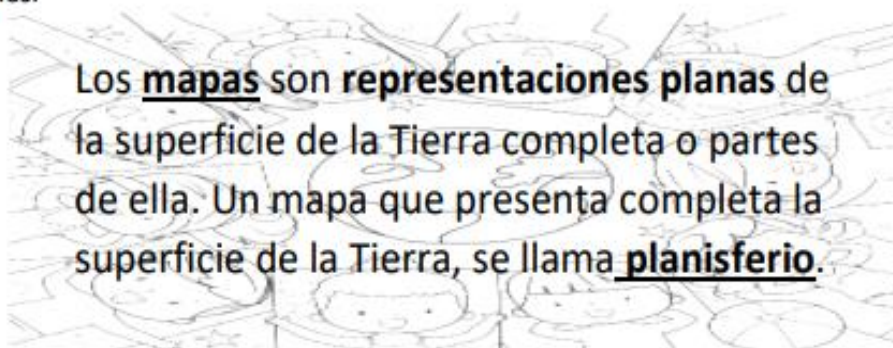


Nombre del Estudiante:			
Docentes: Víctor Hernández Elizabeth Gajardo	Curso: 1° Básico A y B	Fecha de entrega Viernes 6 de noviembre	Correo: de cada profesor: vhernandez@ccechillan.cl mgajardo@ccechiilan.cl
Objetivos del Instrumento: OA 9: Identificar Chile en mapas, incluyendo la cordillera de los Andes, el océano pacífico, su región y su localidad.			
Contenidos a Evaluar: ubicación en un planisferio			
Unidad 3: Nos ubicamos en el espacio			

- Con la ayuda de un adulto lee el siguiente apartado y luego realiza las actividades.



Actividades:

- I. Observa el siguiente planisferio.

Chile en el mundo.





2- Pinta de color rojo chile

Chile se ubica en un lugar del continente llamado **América del Sur.**



3- Con la ayuda de un atlas pinta lo que se te pide:

1. Pinta Chile de color Rojo.
2. Pinta el resto de América del Sur de color Amarilla.
3. Pinta el mar de color celeste.
4. Escribe el nombre del Océano Pacífico donde corresponde.
5. Dibuja montañas  donde se ubica la cordillera de los andes.
6. Dibuja un  el lugar en que se ubica Santiago, la capital de Chile.

Mapa de América del Sur



4- En el siguiente mapa de Chile te pido que lo puedas rellenar o pintar con los materiales que tengas a disposicion en tu hogar. Y con la ayuda de un atlas y de una persona mayor vas a ubicar en el mapa de Chile . donde esta ubicada tu ciudad.

