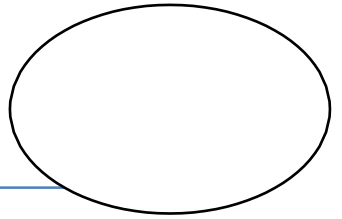




FICHAS MATEMATICAS KINDER



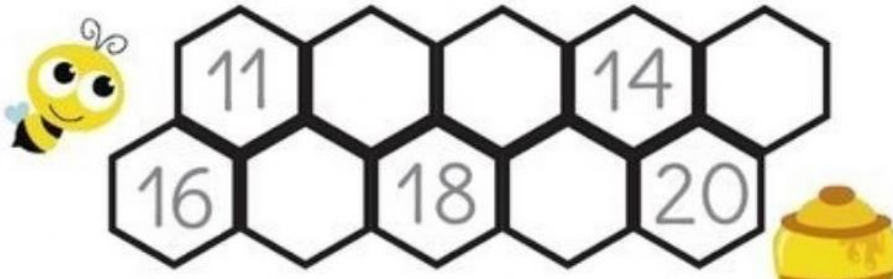
Nombre:

27/10/2020



1.-Escribe tu nombre.

Blank writing area with a dashed line for tracing.

2. Completa la siguiente secuencia numérica.

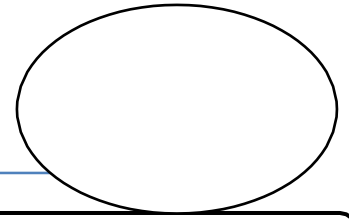


3. Observa los recuadros, cuenta y grafica el numero según corresponda.





FICHAS MATEMATICAS KINDER



Nombre:

03/11/2020

1.-Escribe tu nombre.

2. Resuelve las siguientes adiciones y sustracciones.

$$\begin{array}{r} 4 \\ - 4 \\ \hline \end{array}$$

$$\begin{array}{r} 6 \\ - 0 \\ \hline \end{array}$$

$$\begin{array}{r} 5 \\ - 4 \\ \hline \end{array}$$

$$\begin{array}{r} 5 \\ - 1 \\ \hline \end{array}$$

$$\begin{array}{r} 8 \\ + 0 \\ \hline \end{array}$$

$$\begin{array}{r} 4 \\ + 1 \\ \hline \end{array}$$

$$\begin{array}{r} 6 \\ + 2 \\ \hline \end{array}$$

$$\begin{array}{r} 3 \\ + 5 \\ \hline \end{array}$$

$$\begin{array}{r} 1 \\ + 8 \\ \hline \end{array}$$

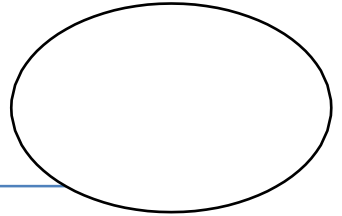
$$\begin{array}{r} 0 \\ + 6 \\ \hline \end{array}$$

$$\begin{array}{r} 7 \\ + 0 \\ \hline \end{array}$$

$$\begin{array}{r} 2 \\ + 5 \\ \hline \end{array}$$



FICHAS MATEMATICAS KINDER



Nombre:

10/11/2020

1.-Escribe tu nombre.

2. Grafica el antecesor y sucesor de cada número según corresponda.

	8	
	4	
	15	
	2	
	18	
	12	
	1	

	3	
	14	
	5	
	17	
	7	
	19	
	20	



FICHAS MATEMATICAS KINDER