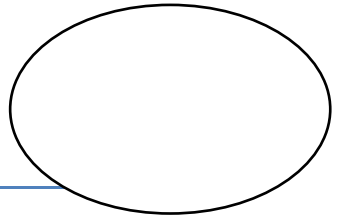




FICHAS MATEMATICAS KINDER



Nombre:

F 11/08/2020



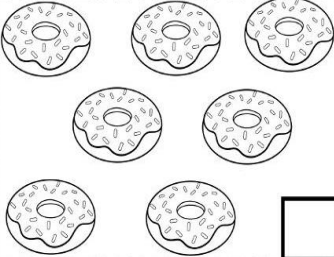



1.-Escribe tu nombre.

Blank writing area with a dashed line for tracing.

2. Completa la siguiente secuencia numérica.

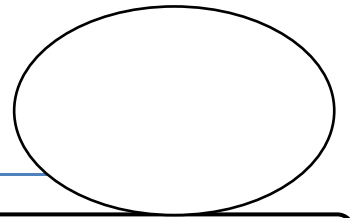
1		3	4		
13			10		8

3. Observa los recuadros, cuenta y grafica el numero según corresponda.

 <input type="checkbox"/>	 <input type="checkbox"/>	 <input type="checkbox"/>
 <input type="checkbox"/>	 <input type="checkbox"/>	 <input type="checkbox"/>



FICHAS MATEMATICAS KINDER



Nombre:

F 18/08/2020
07/07/2020

1.-Escribe tu nombre.

2. Resuelve las siguientes adiciones.

$$\begin{array}{r} + 5 \\ 7 \\ \hline \end{array}$$

$$\begin{array}{r} + 6 \\ 7 \\ \hline \end{array}$$

$$\begin{array}{r} + 8 \\ 5 \\ \hline \end{array}$$

$$\begin{array}{r} + 2 \\ 4 \\ \hline \end{array}$$

$$\begin{array}{r} + 1 \\ 1 \\ \hline \end{array}$$

$$\begin{array}{r} + 7 \\ 5 \\ \hline \end{array}$$

$$\begin{array}{r} + 6 \\ 5 \\ \hline \end{array}$$

$$\begin{array}{r} + 8 \\ 6 \\ \hline \end{array}$$

3. Resuelve las siguientes sustracciones.

$$\begin{array}{r} 5 \\ - 2 \\ \hline \end{array}$$

$$\begin{array}{r} 16 \\ - 7 \\ \hline \end{array}$$

$$\begin{array}{r} 3 \\ - 2 \\ \hline \end{array}$$

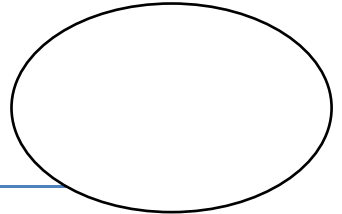
$$\begin{array}{r} 12 \\ - 5 \\ \hline \end{array}$$

$$\begin{array}{r} 9 \\ - 2 \\ \hline \end{array}$$

$$\begin{array}{r} 10 \\ - 9 \\ \hline \end{array}$$

$$\begin{array}{r} 13 \\ - 8 \\ \hline \end{array}$$

$$\begin{array}{r} 12 \\ - 7 \\ \hline \end{array}$$




Nombre:

25/08/2020

1.-Escribe tu nombre.

2. Grafica el antecesor y sucesor según corresponda.

<input type="text"/>	12	<input type="text"/>		<input type="text"/>	11	<input type="text"/>
<input type="text"/>	17	<input type="text"/>		<input type="text"/>	14	<input type="text"/>
<input type="text"/>	19	<input type="text"/>		<input type="text"/>	16	<input type="text"/>

3. Completa según corresponda con mayor, menor o igual que.

13 <input style="width: 40px; height: 30px;" type="text"/> 11	14 <input style="width: 40px; height: 30px;" type="text"/> 16
11 <input style="width: 40px; height: 30px;" type="text"/> 12	11 <input style="width: 40px; height: 30px;" type="text"/> 14
15 <input style="width: 40px; height: 30px;" type="text"/> 16	20 <input style="width: 40px; height: 30px;" type="text"/> 17