



Colegio Ciudad Educativa
Educación Parvularia, básica y media
RBD 18028-9
Camino a Las Mariposas N° 4109
Fono: +56 9 961 920 32
Chillán

Guía de aprendizaje: LA CÉLULA Y SUS ORGANELOS

Profesor(a):	Marcela Molina		
Correo:	mmolina@ccechillan.cl		
Instagram:	profe_marcela_cce		
Curso	8° Básico	Fecha máxima de envío	<u>Viernes 14 de Agosto</u>
Objetivo de aprendizaje:	<ul style="list-style-type: none">- Identificar a la célula como la unidad básica de la vida.- Reconocer y explicar que los seres vivos están formados por una o más células y que estas se organizan en tejidos, órganos y sistemas.- Desarrollar modelos que expliquen la relación entre la función de una célula y sus partes, considerando, Sus estructuras (núcleo, citoplasma, membrana celular, pared celular, vacuolas, mitocondria, cloroplastos, entre otras) y los tipos de Células eucariontes (animal y vegetal) y procariontes.		
Instrucciones:	Responda la siguiente guía con apoyo de la información que se encuentra en su libro de ciencias naturales, en las páginas 52 a 63 . DESARROLLE LA ACTIVIDAD EN SU GUÍA IMPRESA O CUADERNO. (NO LO REALICE EN EL COMPUTADOR O CELULAR) Envíe la fotografía de la actividad al correo o instagram antes mencionado. (Sólo envíe fotografía de la actividad) NO OLVIDE INCLUIR SU NOMBRE Y CURSO. Se anexan link de apoyo: (el video está en inglés, no olvide configurar los subtítulos al español) https://www.youtube.com/watch?v=URUJD5NEXC8		

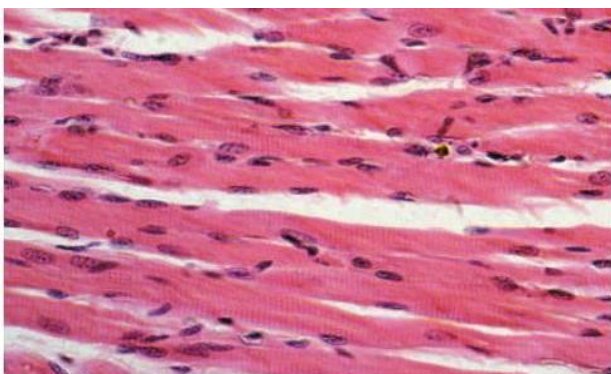
NUESTRA UNIDAD DE LA VIDA: LA CÉLULA.

La célula es la unidad básica de los seres vivos. En la naturaleza existe una sorprendente diversidad de ellas, sin embargo, todas comparten características comunes:

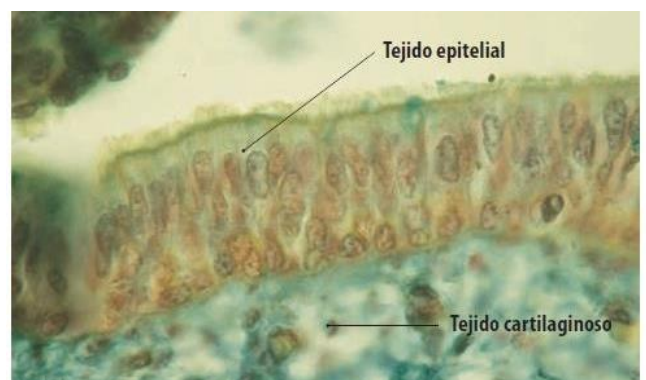
- **Membrana celular:** establece el límite entre el interior de la célula y su medio externo, además de controla el paso de sustancias que entran y salen de la célula.
- **Material hereditario:** es una copia del ADN que recibe de la célula que la ha originado, cuya función es controlar las actividades celulares.
- **Citoplasma:** es un fluido presente en todas las células, dentro del cual se encuentran todos los organelos y estructuras subcelulares.
- **Ribosomas:** grandes complejos supramoleculares en las que se fabrican proteínas.

¿LAS CÉLULAS AGRUPADAS U ORGANIZADAS?

Los **organismos pluricelulares** están compuestos por una gran cantidad de células distintas y especializadas. Estas se encuentran organizadas formando tejidos, órganos y sistemas. Lo anterior evidencia una división del trabajo, lo que favorece la eficiencia de sus funciones. A continuación se muestran agrupadas células formando diferentes tipos de tejidos, cumpliendo funciones diferentes:



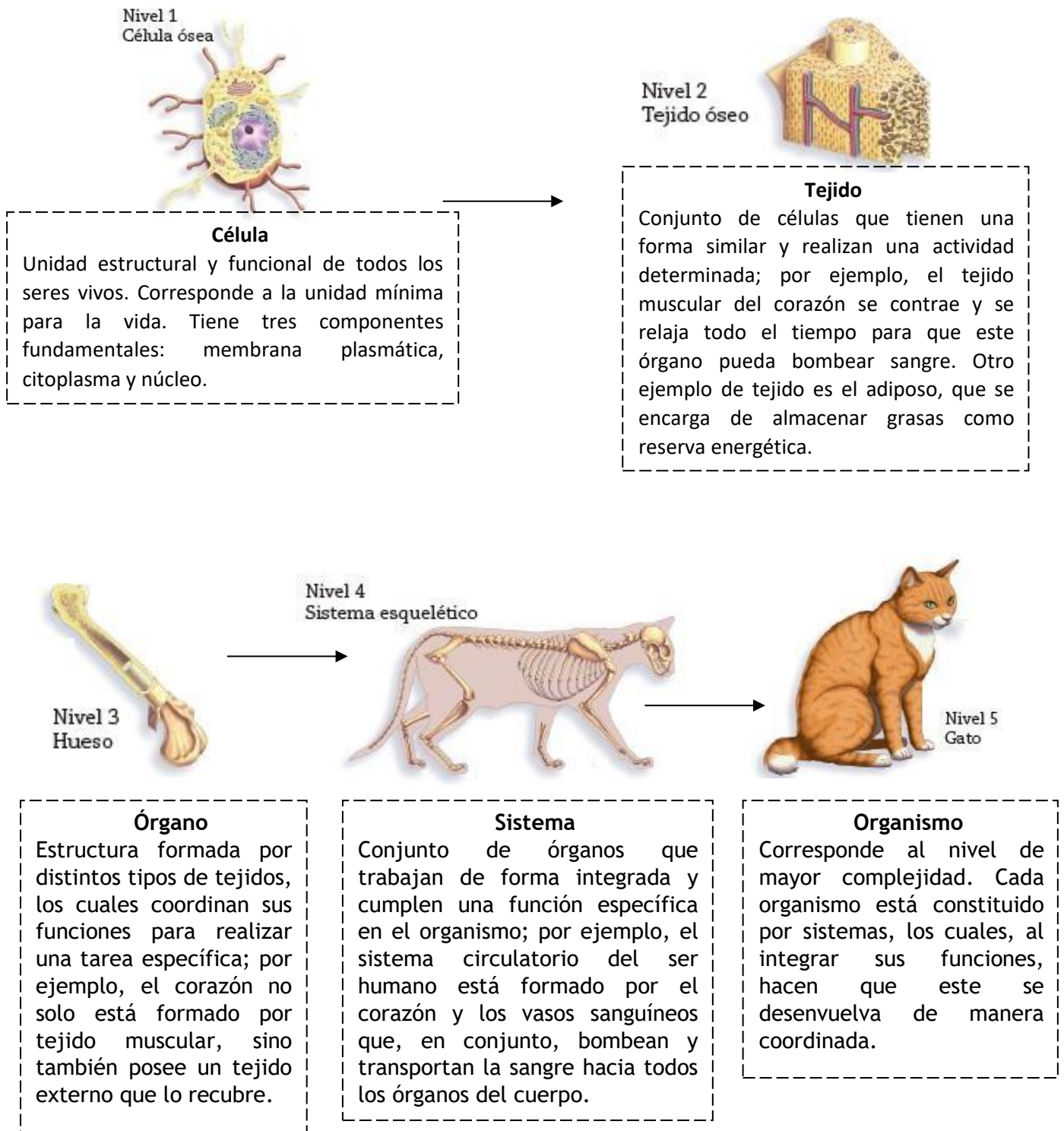
▲ Tejido del músculo que se encuentra en las extremidades.



▲ Tejido cartilaginoso y epitelial de la tráquea, estructura que forma parte del sistema respiratorio.

NIVELES DE ORGANIZACIÓN:

Las estructuras de un organismo pluricelular se encuentran organizadas en niveles. Mientras más componentes posean un nivel, mayor será la complejidad de su función, debido a las múltiples interacciones que se producen entre sus componentes.



DIVERSIDAD DE CELULAS

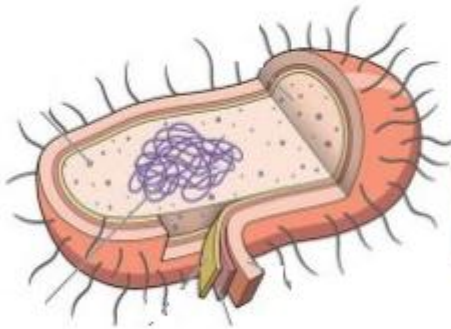
Las células son muy diversas en cuanto a forma y estructura interna. Sin embargo, todas comparten ciertas características:

- La mayoría de las células son muy pequeñas. Tanto así que no las podrías ver a simple vista.
- Todas las células cuentan con cuatro componentes básicos: membrana plasmática, citoplasma, ribosomas y ADN.

Las células pueden clasificarse en dos tipos:

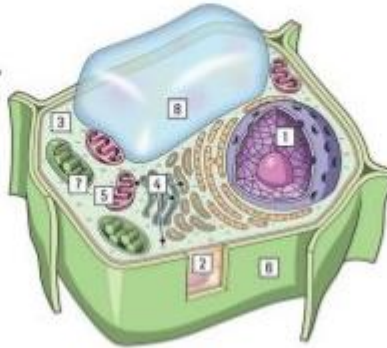
Tipos de Células

Procarionte

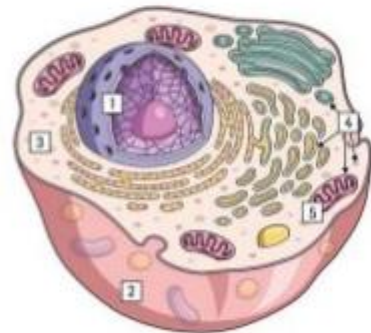


La **célula procarionte** está representada solo por organismos unicelulares, específicamente las bacterias y las arqueobacterias. Su ADN es único, circular y se encuentra en contacto directo con el citoplasma, es decir no poseen núcleo. Posee muchos ribosomas y plásmidos.

Eucarionte



Vegetal



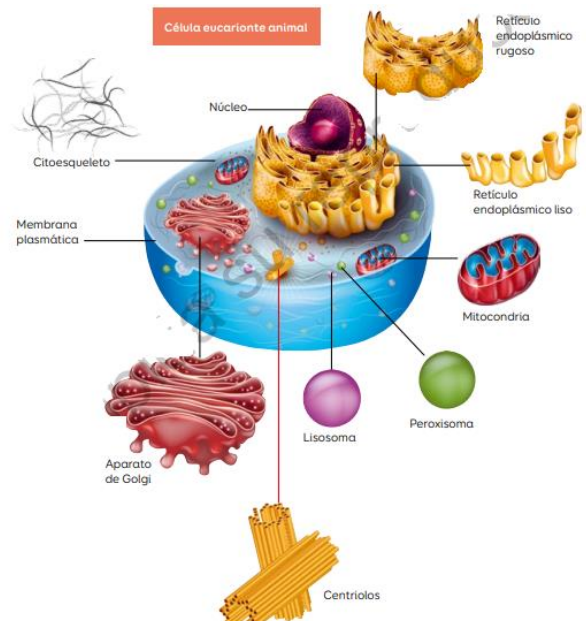
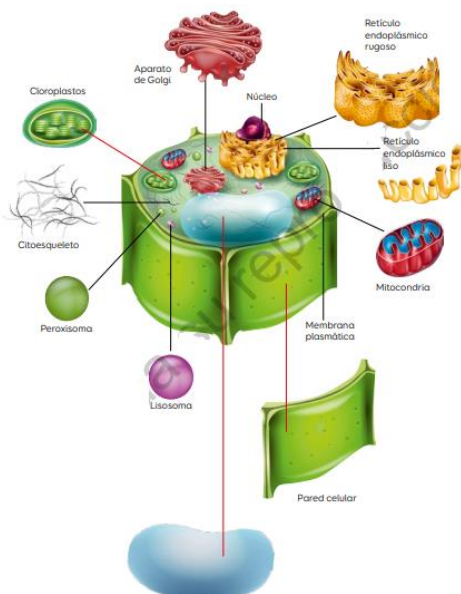
Animal

La **célula eucarionte** constituye a algunos organismos unicelulares, como los protozoos, y a todos los organismos pluricelulares. Su ADN está al interior del núcleo celular. Es más grande que la célula procarionte y posee unas estructuras llamadas organelos.

¿Qué son los organelos?

Los **organelos** u orgánulos celulares son las estructuras que están en el interior de toda célula. Varían en morfología y se diferencian entre sí por la función que cada uno cumple dentro de la célula. Por ejemplo: *las mitocondrias, el aparato de Golgi, los ribosomas.*

Los organelos están presentes en las células eucariotas y procariotas. El tipo y número de organelos que una célula posee depende directamente de su función y estructura.





Colegio Ciudad Educativa
Educación Parvularia, básica y media
RBD 18028-9
Camino a Las Mariposas N° 4109
Fono: +56 9 961 920 32
Chillán

ACTIVIDAD: Responda cada una de las siguientes preguntas relacionadas con los tipos de células.
Resuelve la actividad, guiándote con tu libro de asignatura, desde la página 52 a 63.

DESARROLLE LA ACTIVIDAD EN SU GUÍA IMPRESA O CUADERNO. (NO LO REALICE EN EL COMPUTADOR O CELULAR)

NOMBRE: _____ **CURSO:** _____ **Puntaje Ideal: 121 Puntaje Obtenido:** _____

I. Completa el siguiente cuadro correspondiente a las características de los organelos celulares.

Organelos	Dibujo estructura (2 pts. c/u)	Función (4 pts. c/u)	Presente en célula animal, vegetal o ambas (2 pts. c/u)
Mitocondrias			
Pared celular			
Retículo Endoplasmático liso			
Lisosomas			
Cloroplastos			



Núcleo			
Retículo Endoplasmático rugoso			
Aparato de Golgi			
Vacuola			
Citoesqueleto			
Centriolo			

II. Responde las preguntas que aparecen a continuación:

a) ¿Qué organelos nos permitirían diferenciar una célula animal de una vegetal? (3 pts.)



b) ¿Quién dirige y controla todas las actividades de la célula? (3 pts.)

c) ¿Cuál es la diferencia entre RER y REL? (3 pts.)

d) ¿Qué organelo trabaja en conjunto a los Retículos Endoplasmático? (3 pts.)

e) ¿Qué organelo es el responsable del proceso de la fotosíntesis? (3 pts.)

III. Selecciona la alternativa correcta: (3 pts. c/u)

1. ¿Qué estructuras son comunes en todas las células?

- A. Núcleo, citoplasma y membrana plasmática.
- B. ARN, citoesqueleto y pared celular.
- C. Núcleo, mitocondrias y pared celular.
- D. ADN, citoplasma y membrana plasmática.

2. ¿Cuál es la principal diferencia entre una célula procarionte y una eucarionte?

- A. El citoplasma
- B. Los ribosomas
- C. Pared Celular
- D. Núcleo

3. Las células animales a diferencia de las células vegetales poseen

- I. cloroplastos.
- II. retículo endoplasmático liso
- III. centriolos

- A. Sólo I.
- B. Sólo III.
- C. Sólo I y II
- D. Sólo I y III

4. El organelo celular donde ocurre la respiración celular y obtención de energía es:

- A. El cloroplasto
- B. El lisosoma
- C. La vacuola
- D. La mitocondria

5. ¿Cuál de los siguientes organismos usarías como materia prima para obtener cloroplastos?

- A. Vaca
- B. Hongo
- C. Lechuga
- D. Bacteria

6. Se tiene una muestra de células de origen desconocido. Hasta ahora el análisis ha revelado la presencia de mitocondrias, núcleo y ribosomas. Según este antecedente, esta muestra de células puede provenir de un organismo:

- A. Procarionte animal.
- B. Procarionte vegetal.
- C. Animal o vegetal.
- D. Solo puede ser animal