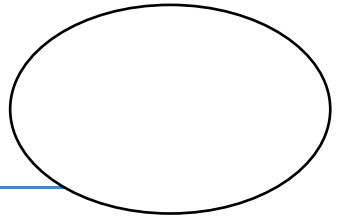




FICHAS MATEMATICAS KINDER




Nombre:


F 07/07/2020

1.-Escribe tu nombre.

2. Completa la siguiente secuencia numérica en reversa.

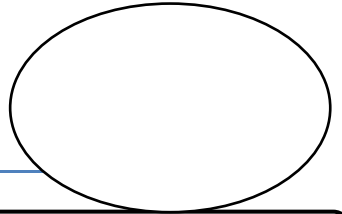


3. Observa la jarra, dibuja nueve elementos, y luego grafica por la línea punteada los números según corresponda.





FICHAS MATEMATICAS KINDER

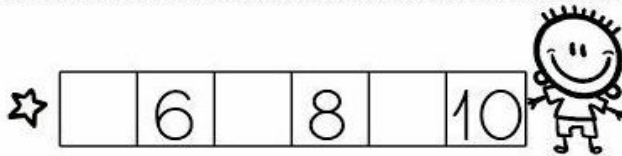
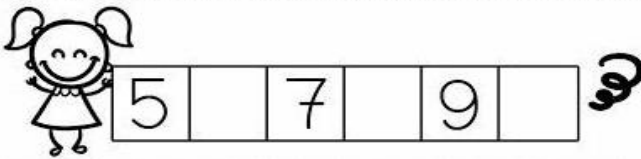
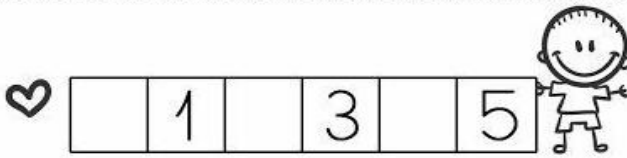



Nombre: _____

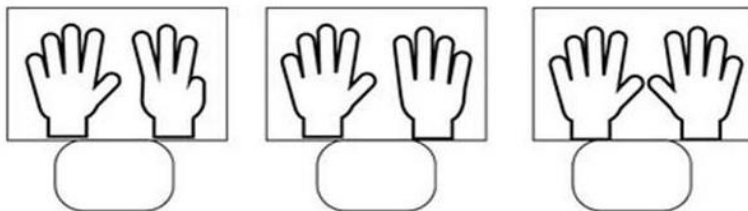
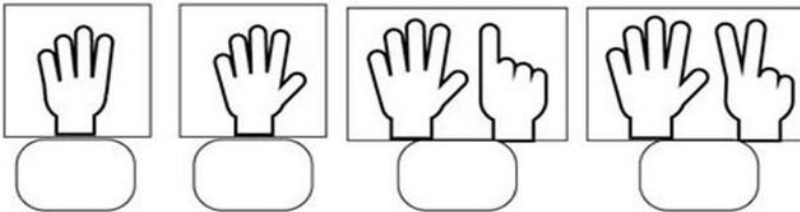
F 14/07/2020
07/07/2020

1.-Escribe tu nombre.

2. Completa la siguiente secuencia numérica.

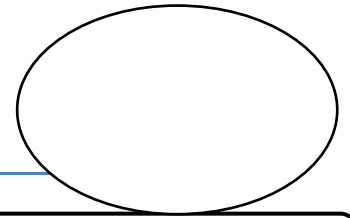


3. Cuenta los dedos y grafica el número según corresponda.





FICHAS MATEMATICAS KINDER



Nombre:

F 21/07/2020

1.-Escribe tu nombre.

2. Resuelve las siguientes adiciones.

$$\begin{array}{r} 3 \\ + 4 \\ \hline \end{array}$$

$$\begin{array}{r} 2 \\ + 3 \\ \hline \end{array}$$

$$\begin{array}{r} 4 \\ + 4 \\ \hline \end{array}$$

$$\begin{array}{r} 6 \\ + 1 \\ \hline \end{array}$$

$$\begin{array}{r} 3 \\ + 5 \\ \hline \end{array}$$

$$\begin{array}{r} 2 \\ + 4 \\ \hline \end{array}$$

$$\begin{array}{r} 9 \\ + 1 \\ \hline \end{array}$$

$$\begin{array}{r} 3 \\ + 3 \\ \hline \end{array}$$

$$\begin{array}{r} 3 \\ + 6 \\ \hline \end{array}$$

$$\begin{array}{r} 8 \\ + 4 \\ \hline \end{array}$$

$$\begin{array}{r} 2 \\ + 1 \\ \hline \end{array}$$

$$\begin{array}{r} 6 \\ + 4 \\ \hline \end{array}$$

3. Completa según corresponda con mayor, menor o igual que.

4 2

1 8

5 4

6 9

3 7

8 5

10 6

1 2



FICHAS MATEMATICAS KINDER

F 28/07/2020

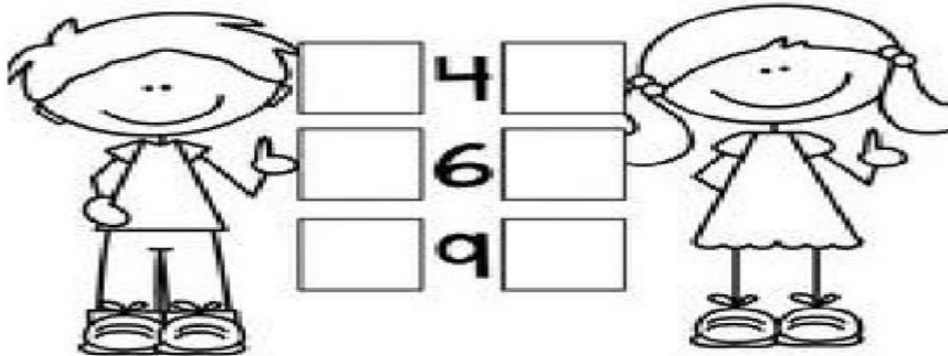
Nombre:

1.-Escribe tu nombre.

2. Completa con el antecesor y sucesor del número según corresponda.

	1	
	5	
	7	

	3	
	8	
	2	



3. Resuelve las siguientes sustracciones.

$\begin{array}{r} 5 \\ - 1 \\ \hline \end{array}$	$\begin{array}{r} 7 \\ - 2 \\ \hline \end{array}$	$\begin{array}{r} 4 \\ - 1 \\ \hline \end{array}$	$\begin{array}{r} 9 \\ - 7 \\ \hline \end{array}$
---	---	---	---

$\begin{array}{r} 9 \\ - 2 \\ \hline \end{array}$	$\begin{array}{r} 8 \\ - 7 \\ \hline \end{array}$	$\begin{array}{r} 6 \\ - 3 \\ \hline \end{array}$	$\begin{array}{r} 8 \\ - 4 \\ \hline \end{array}$
---	---	---	---