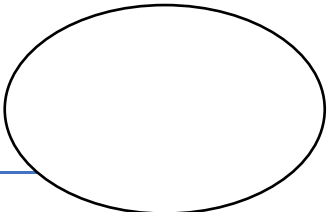




FICHAS MATEMÁTICAS KÍNDER




Nombre:

Fecha: 11/05 al 22/05

1.-Escribe tu nombre.

2.Cuenta y grafica la cantidad de elementos, en el lugar que le corresponde.



<input type="text"/>	<input type="text"/>	<input type="text"/>	<input type="text"/>	<input type="text"/>	<input type="text"/>

3.Observa los ejercicios y completa con > < o =, según corresponda.

2 2

1 0

1 3

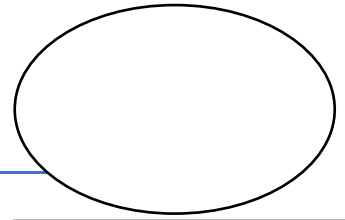
3 5

4 4

4 1



FICHAS MATEMÁTICAS KÍNDER



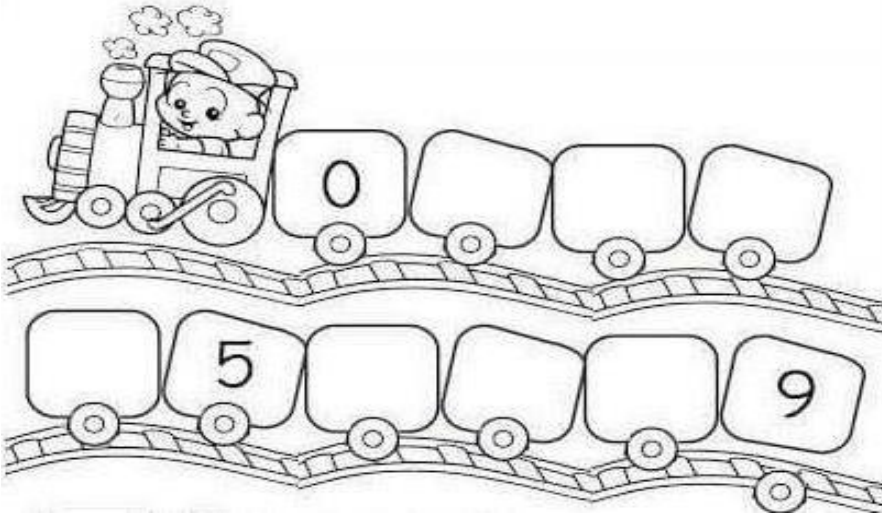
Nombre:

Fecha: 11/05 al 22/05

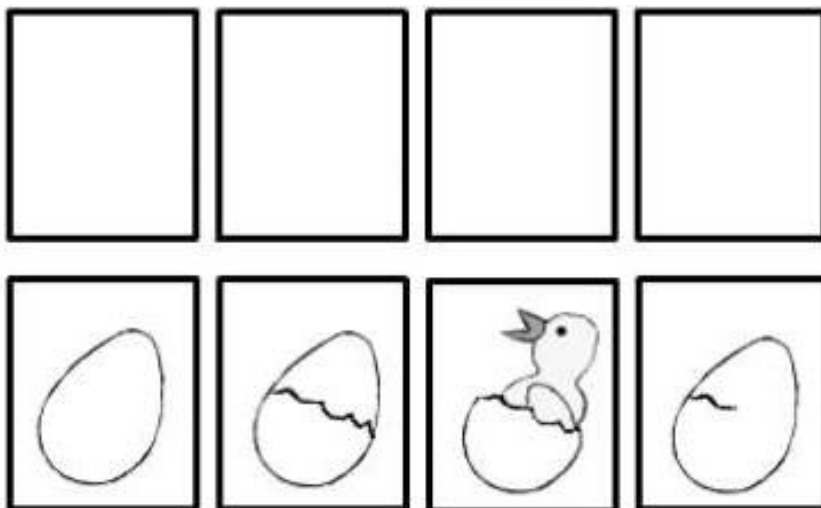
1.-Escribe tu nombre.

Blank writing area with a dashed line for tracing.

2. Completa la siguiente secuencia numérica según corresponda.

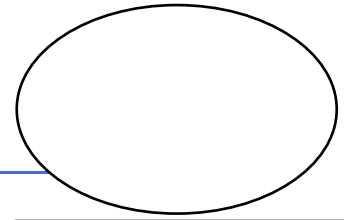


3. Colorea, recorta y ordena, según corresponda.





FICHAS MATEMÁTICAS KÍNDER



Nombre:

Fecha: 11/05 al 22/05

1.-Escribe tu nombre.

Blank writing area with a dashed line for tracing.

2.Repasa el numero 4 por la línea punteada, luego escribe dentro de cada cuadrado el número, colorea el número, rellena 4 cuadrados, colorea 4 maceteros, y dibuja 4 objetos.

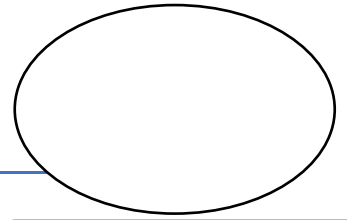
día del número 4

<p>traza</p>	<p>escribe</p>
<p>colorea</p>	<p>rellena</p>
<p>colorea</p>	<p>dibuja</p>

La ciudad en movimiento



FICHAS MATEMÁTICAS KÍNDER




Nombre:

Fecha: 11/05 al 22/05

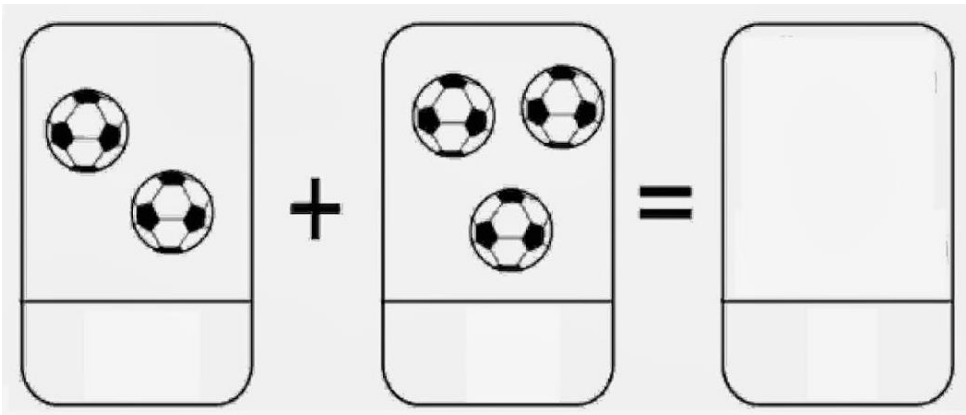
1.-Escribe tu nombre.

2.Grafica el antecesor y el sucesor de los siguientes números, apóyate de la recta numérica.

0 - 1 - 2 - 3 - 4 - 5 - 6 - 7 - 8 - 9

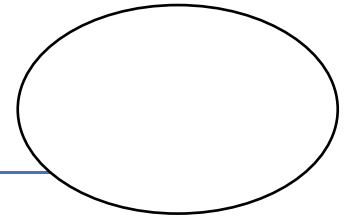


3.Resuelve la siguiente adición.





FICHAS MATEMÁTICAS KÍNDER



Nombre:

Fecha: 11/05 al 22/05

1.-Escribe tu nombre.

Handwriting practice lines consisting of a solid top line, a dashed middle line, and a solid bottom line.

2.Cuenta y une los conjuntos con el número que corresponde.



1



2

3

4

5

6



3.Repasa los números con tu lápiz grafito.

