



Plan de trabajo: Historia, Geografía y Cs. Sociales y Guías Unidad 1: ¿Cómo es el lugar donde vivimos?

Curso: 2° básico A y B

Profesores: Mario Iriarte y Dagoberto Mora

Nombre estudiante: _____ Curso: _____

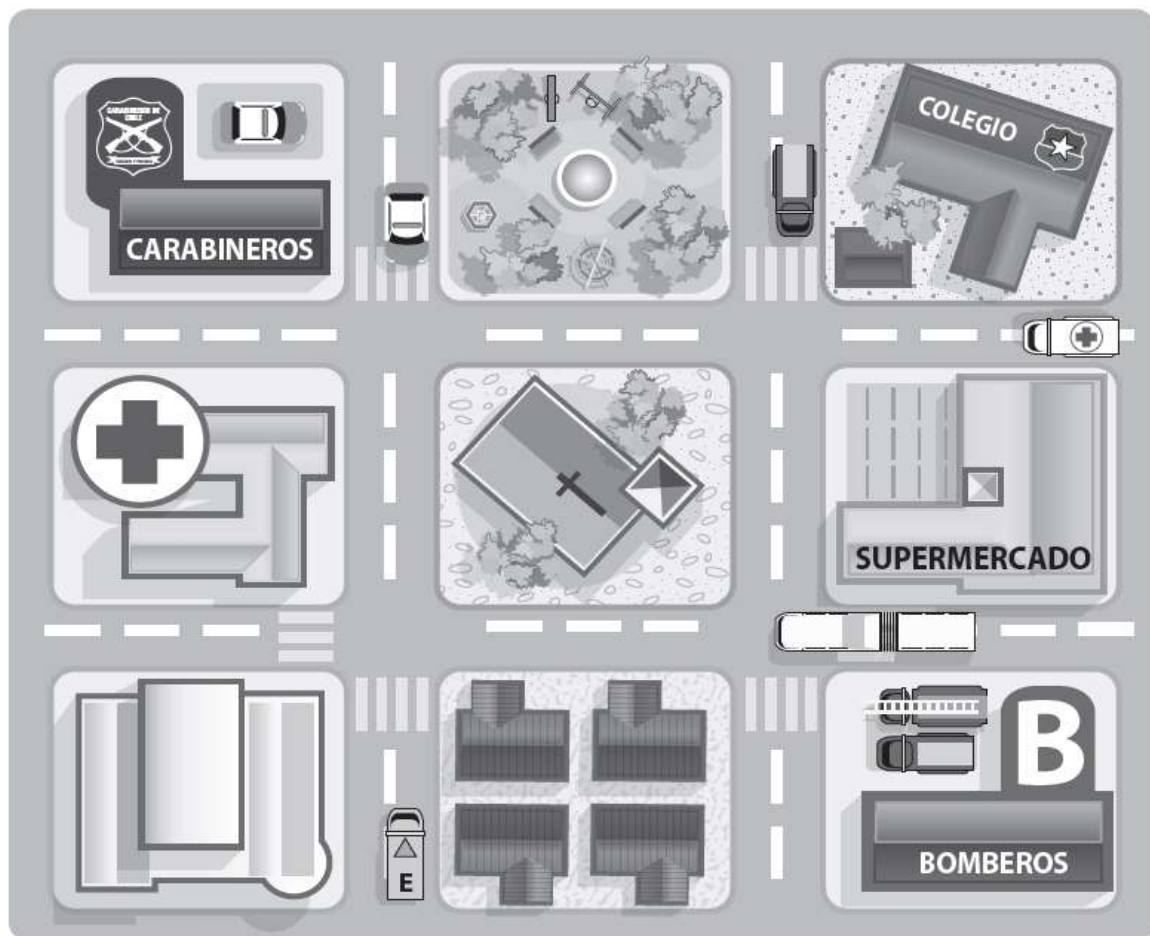
Guía 1: Los planos

Instrucciones: Para realizar esta actividad necesitas utilizar los puntos cardinales, que son direcciones que se relacionan con la posición del sol, estos son: Norte, Sur, Este y Oeste.

Aquí te presentamos la Rosa de los vientos que se utilizara para ubicar los puntos cardinales:



Actividad: Observa el plano y contesta.



- 1) Piensa en un símbolo para representar un cine y dibújalo en el edificio que se encuentra al sur del hospital.
- 2) Describe el recorrido que Julián realiza desde cine hasta el colegio, utilizando los puntos cardinales.

Julián debe caminar 2 cuadras hacia el _____, luego _____

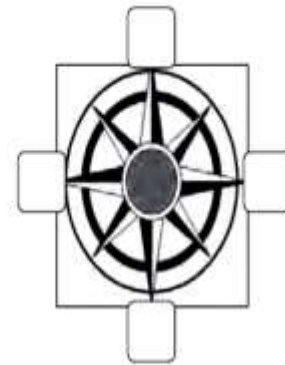


Guía 2: Chile en el mapa

Instrucciones: Para realizar esta actividad necesitas utilizar tu texto del estudiante, la página 25. En esta página se observa la ubicación de Chile en América del Sur, así como también los países con los que limita.

Actividad: Completa el mapa realizando las siguientes actividades:

- Completa la rosa de los vientos con los puntos cardinales.
- Ubica Chile y píntalo de color ROJO.
- Pinta los países con los cuales limita Chile según lo indica la simbología.
- Ubica en el mapa el océano Pacífico y escribe su nombre.



Simbología

- Argentina (Amarillo)
- Bolivia (Verde)
- Perú (Naranja)

e. ¿Qué ventajas crees que tiene la ubicación geográfica de Chile?



Guía 3: Las zonas naturales de Chile

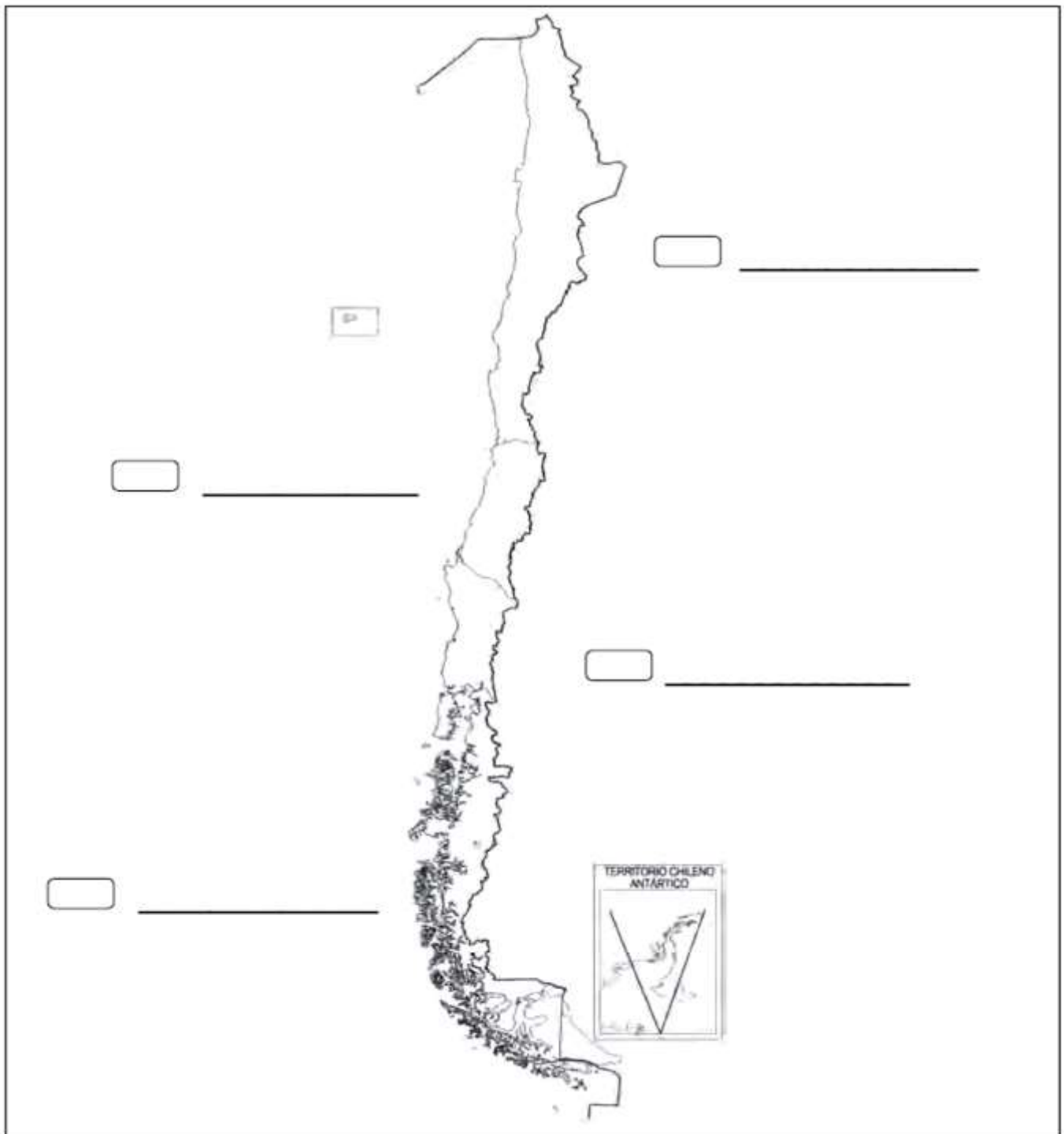
Instrucciones: Para realizar esta actividad necesitas utilizar tu texto del estudiante, debes observar desde la página 30 a la 40. Es estas páginas podrás observar que en Chile existen distintos tipos de paisajes naturales dependiendo la ubicación geográfica en que se encuentren, cada una de ellas con características particulares. Chile se divide en 4 zonas naturales: Zona Norte, Zona Central, Zona Sur y Zona Austral.

1) Completa tu mapa de las zonas naturales siguiendo las instrucciones:

Pinta cada zona natural de un color distinto.

Escribe el nombre de cada zona en los recuadros.

Encierra en un círculo la zona donde vives.





2) Observa los paisajes e identifica a qué zona natural de Chile corresponde según sus características.



Esta imagen representa a la
Zona _____, porque





Esta imagen representa a la
Zona _____, porque



Guía 4: ¿Cómo nos conectamos y comunicamos?

Observa las imágenes y responde.

	<p>Escribe 2 ventajas que tiene el uso de este medio de transporte:</p> <hr/> <hr/> <hr/>
	<p>Escribe 2 desventajas que tiene el uso de este medio de transporte:</p> <hr/> <hr/> <hr/>
	<p>¿En qué situaciones nos sirve este medio de transporte?</p> <hr/> <hr/> <hr/>

	<p>¿Qué resguardos debes tener con este medio de comunicación?</p> <hr/> <hr/> <hr/>
	<p>¿Por qué este medio de comunicación es utilizado por tantas personas?</p> <hr/> <hr/> <hr/>



Guía 5: ¿Cómo cuidamos el entorno público y privado?

Observa las siguientes imágenes y responde.

- Encierra en círculo rojo la actividad que se hace en el espacio público y con verde la actividad que se realiza en el espacio privado.



¿Qué acción realizan las personas de la imagen?

¿Qué acción realiza el niño de la imagen?

¿Por qué es importante realizar este tipo de acciones?

¿Por qué es importante realizar este tipo de acciones?

Dibuja una actividad que realices en el espacio público.

Dibuja una actividad que realices en el espacio privado.